






嘉義市 114 學年度國民中學藝術才能班術科測驗答案卷


科目：國中樂理及音樂基本常識

一、題組 20%

請寫出下列各音正確的間線名稱(例:第一線)及音名(例:C)。(每格 2 分，共 20 分)

題號	①	②	③	④	⑤
					
音名	F	A	D	F	C
間線名稱	第四線	上加一間	下加一間	上加三間	下加一線

二、和弦 20% 請寫出下列和弦的完全名稱，例如：(大三)和弦。(每題 2 分，共 20 分)



題號	1	2	3	4	5	6	7	8	9	10
答案	(大三) 和弦	(減三) 和弦	(屬七) 和弦	(小三) 和弦	(增三) 和弦	(小三) 和弦	(屬七) 和弦	(大三) 和弦	(減三) 和弦	(小三) 和弦

三、畫出小節線及終止線 10% 請依照指定的拍號，畫上小節線及終止線。(每答 2 分，共 10 分)



四、配合題 10% (每格 2 分，共 10 分)

中國歷代宮廷的典禮、祭祀或民俗慶典，皆可見到傳統樂器的演奏。下列中國傳統樂器依據演奏方式分別屬於哪種類型，請將分類代號填入括弧中

A：拉弦樂器 B：彈撥樂器 C：吹管樂器 D：擊樂器

樂器：	月琴	二胡	單皮鼓	笙	三弦
分類代號：	(B)	(A)	(D)	(C)	(B)

五、音樂常識 40% (每題 2 分，共 40 分)

(1)1. 阿吉：「昨晚的音樂會很好聽耶，其中有個樂器音色柔美渾厚，有著捲曲的管身和亮麗的外型，令人印象深刻。」
阿奇：「那段音樂我有印象，我記得導聆老師說那是大野狼的主題，既神秘又恐怖，連我都跟著音樂緊張起來。」
根據上述對話，阿吉和阿奇他們看到的樂器和聽到的音樂可能是下列那個樂器和樂曲？

(1)法國號／《彼得與狼》 (2)單簧管／《彼得與狼》 (3)法國號／《動物狂歡節》 (4)雙簧管／《動物狂歡節》

(4)2. 超慢跑運動近年來蔚為風潮。醫生建議超慢跑的速度為每秒鐘三步，若使用節拍器輔助，踏一步則節拍器敲一下的話，應依照下列那個選項設定呢？

(1) ♩=30 (2) ♩=60 (3) ♩=120 (4) ♩=180



- (4)3. 下列有關圓滑線和連結線的敘述何者正確？(1) 此圖為連結線(2) 連結線是連結著不同音高的音，並將其圓順的演奏出來(3) 以上皆是(4) 以上皆非

- (2)4. 台灣的原住民族種類眾多且文化豐富，常利用天然的素材來製作各類的樂器，請問下列族群與樂器的配對何者錯誤？
(1) 邵族-木杵(2) 排灣族-杵互(3) 太魯閣族-木琴(tatuk)(4) 布農族-弓琴
- (3)5. 小名在藝文中心的外面看見一張海報引起他的興趣，上面斗大的標題寫著「銅心未泯-銅管五重奏音樂會」請問下列有幾種樂器不會出現在這場音樂會上呢？①Trumpet ②Bassoon ③Saxophone ④Tuba ⑤Flute
(1) 1種(2) 2種(3) 3種(4) 4種
- (3)6. 下列何者為「半音」？(1) Sol-La(2) Mi-升Fa(3) 升Si-升Do(4) 降Re-Mi
- (1)7. 音樂劇是一種綜合了音樂、舞蹈、歌唱、戲劇等多項元素的表演藝術，而臺灣著名的音樂劇《四月望雨》劇情是描述下列哪一位音樂家的一生，引領觀眾回到早年繁華的大稻埕？
(1) 鄧雨賢(2) 馬水龍(3) 蕭泰然(4) 江文也



- (2)8. 請問右圖譜例方框中所組成的音程為下列那個音程？
(1) 大七度(2) 小七度(3) 增七度(4) 減七度
- (3)9. 出生於奧地利，喜歡文學與詩歌，經常以著名的詩作為歌詞寫成藝術歌曲，著名作品有〈野玫瑰〉、〈鱒魚〉等。根據上述內容描述所指的是下列那一位音樂家？
(1) 貝多芬(2) 孟德爾頌(3) 舒伯特(4) 莫札特
- (1)10. 全音和半音的排列順序為：全音、全音、半音、全音、全音、全音、半音，上述排列順序為下列哪一個音階？
(1) 大調音階(2) 小調音階(3) 全音階(4) 五聲音階
- (4)11. 下列哪一首樂曲並非弱起拍的曲子？
(1) 〈生日快樂歌〉(2) 〈國歌〉(3) 〈鱒魚〉(4) 〈小星星〉
- (4)12. 古典音樂發展至今已出現許多著名的音樂家，其中三位名字皆是字母B開頭的德國音樂家被尊稱為德國3B，請問下列哪個音樂家並非德國3B之音樂家？
(1) 巴哈(2) 貝多芬(3) 布拉姆斯(4) 白遼士
- (2)13. 鍵盤樂器的一種，其音域寬廣、表現力豐富，可以獨奏也可以伴奏，還可以和各種樂器一起合奏，被稱為「樂器之王」的是下列哪一種樂器？
(1) 小提琴(2) 鋼琴(3) 大提琴(4) 口風琴
- (1)14. 美國作曲家及指揮家蘇沙以「進行曲之王」著稱，他的作品以雄壯的軍樂為主。請問下列那首樂曲是蘇沙的作品？
(1) 〈永遠的星條旗〉(2) 〈藍色多瑙河〉(3) 〈軍隊進行曲〉(4) 〈拉德斯基進行曲〉
- (2)15. 出生於英國農村，美麗的田園景色帶給他豐富的創作靈感，著名作品有〈愛的禮讚〉、〈威風凜凜進行曲〉等。請問上述內容描述的是下列哪一位音樂家？
(1) 貝多芬(2) 艾爾加(3) 孟德爾頌(4) 德弗札克
- (4)16. 下列哪個音樂術語與速度有關？
(1) D.C.(2) *mp*(3) *cresc.*(4) Allegro



- (3)17. 請問右圖譜列方框中應填入下列何者休止符？
(1) 二分休止符(2) 四分休止符(3) 八分休止符(4) 十六分休止符
- (2)18. 民歌不僅是歌曲的傳唱，更是人類社會及生活中思想情感的表達。下列民歌與語系配對何者有誤？
(1) 〈西北雨〉—閩南語系(2) 〈天公落水〉—閩南語系(3) 〈美麗的稻穗〉—原住民語系(4) 〈桃花開〉—客家語系
- (1)19. 下圖為莫札特〈小星星變奏曲〉變奏二之譜例，根據樂譜呈現，此曲調性為何？



- (1) C大調(2) F大調(3) G大調(4) A大調
- (3)20. 根據上圖，此曲適合用下列哪個樂器來演奏？
(1) 長笛(2) 小提琴(3) 鋼琴(4) 二胡